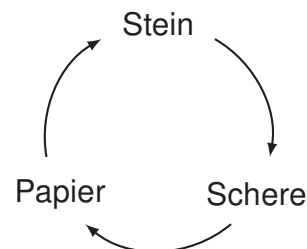


Aufgabe G1

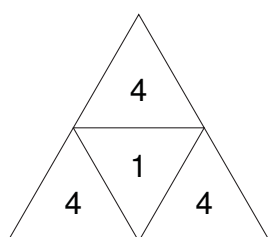
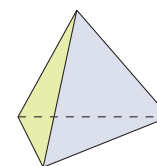
Für reelle Zahlen ist die Relation „... ist kleiner als ...“ transitiv, d.h. aus $a < b$ und $b < c$ folgt $a < c$.

Das Spiel „Stein-Papier-Schere“ ist ein Beispiel für eine nicht transitive Relation. In der Abbildung bedeutet der Pfeil „... schlägt ...“.

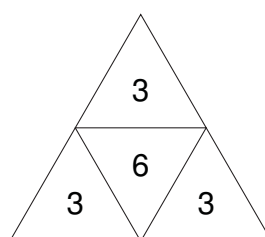


Statt einen 6-seitigen Spielwürfel zu werfen, kann man auch einen 4-seitigen Tetraeder werfen.

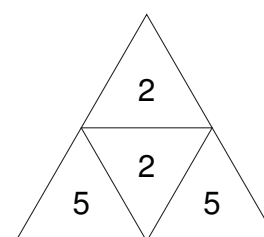
Untersuchen Sie, ob bei den folgenden drei „Tetraeder-Würfeln“ die Relation „... schlägt ...“ bzw. „... ist stärker als ...“ transitiv ist.



A

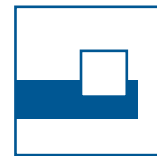



B



C

- Wählen Sie jeweils zwei Würfel aus und berechnen Sie die Wahrscheinlichkeit p , mit der einer der Würfel gewinnt.
- Welcher „Tetraeder-Würfel“ ist der stärkste, wenn alle drei gleichzeitig geworfen werden?

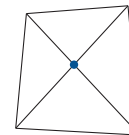


Aufgabe G2

- a) Ein Viereck hat 2 Diagonalen, ein Fünfeck 5 und ein Sechseck 9.

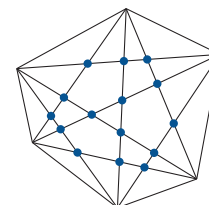
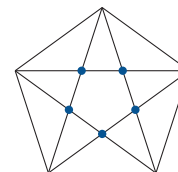
Sei $d(n)$ die Anzahl der Diagonalen in einem n -Eck, also $d(4) = 2$, $d(5) = 5$ und $d(6) = 9$.


Für welches n gilt $d(n) = 104$?



- b) In einem Viereck gibt es nur einen Diagonalenschnittpunkt, beim Fünfeck sind es 5 und beim Sechseck sind es maximal 15, wenn nicht 3 Diagonalen durch einen Punkt gehen. In diesem Fall müsste dieser Schnittpunkt 3-fach gezählt werden.

Sei $s(n)$ die maximale Anzahl von Diagonalenschnittpunkten in einem konvexen n -Eck, also $s(4) = 1$, $s(5) = 5$ und $s(6) = 15$. Für welches n -Eck gilt $s(n) = 210$?





Aufgabe G3

In einem Koordinatensystem sei S die Menge aller Punkte $(x | y)$ für die gilt $|2x - 1| + |2x + 1| + \frac{4|y|}{\sqrt{3}} = 4$.


a) Zeigen Sie, dass S symmetrisch zu den Koordinatenachsen ist.

b) Bestimmen Sie S im 1. Quadranten, und zwar in den Intervallen

(i) $0 \leq x \leq \frac{1}{2}$

(ii) $\frac{1}{2} \leq x \leq 1$

(iii) $x > 1$.



Aufgabe G4

Berechnen Sie die Fläche des größten Kreises, der zwischen die beiden Glockenkurven $y = \pm e^{-x^2}$ passt.

Hinweis: Die Ableitung von $y = e^{-ax^2}$ ist $y' = -2ax \cdot e^{-ax^2}$.

